





# चन्द्रा इंस्टीट्यूट

रामबाग सुन्दरम टॉवर के बगल (सिन्डिकेट बैंक के नीचे), इलाहाबाद

चन्द्रा इंस्टीट्यूट चन्द्रा इंस्टीट्यूट चन्द्रा इंस्टीट्यूट चन्द्रा इंस्टीट्यूट चन्द्रा इंस्टीट्यूट चन्द्रा इंस्टीट्यूट चन्द्रा इंस्टीट्यूट चन्द्रा इंस्टीट्यूट चन्द्रा इंस्टीट्यूट चन्द्रा इंस्टीट्यूट

चन्द्रा इंस्टीट्यूट चन्द्रा इंस्टीट्यूट चन्द्रा इंस्टीट्यूट चन्द्रा इंस्टीट्यूट चन्द्रा इंस्टीट्यूट चन्द्रा इंस्टीट्यूट चन्द्रा इंस्टीट्यूट चन्द्रा इंस्टीट्यूट चन्द्रा इंस्टीट्यूट चन्द्रा इंस्टीट्यूट

13. 6, 10, 18, 34, 66, ?, 258

- (a) 64 (b) 132  
(c) 128 (d) 130

14. 3, 11, 38, 102, ?, 443

- (a) 127 (b) 227  
(c) 132 (d) 306

15. नीचे दिए अक्षरों का कौन-सा समूह खाली स्थानों पर क्रमवार रखने से दी गई श्रृंखला को पूरा करेगा?

\_ a \_ b \_ a \_ bb \_ ab \_ aab

- (a) bbbaa (b) aababa  
(c) babaab (d) bababa

निर्देश : (प्रश्न संख्या 16 से 17 तक) निम्नलिखित प्रश्नों में एक पद रिक्त है। दिए गए विकल्पों में से वह सही विकल्प चुनें, जो अनुक्रम को पूरा करेगा।

16. B, I, O, T, X, A, ?

- (a) E (b) D  
(c) B (d) C

17. BDFH, IKMO, PRTV, ?

- (a) RTVX (b) CAYW  
(c) NPRT (d) WYAC

18. निम्न विकल्पों में से कौन-सा विकल्प नीचे दिए गए शब्दों का सार्थक आरोही क्रम दर्शाएगा?

1. बेल्ट 2. कमीज  
3. टोपी 4. मोजे

- (a) 4, 3, 2, 1 (b) 1, 2, 3, 4  
(c) 2, 4, 1, 3 (d) 4, 1, 2, 3

19. राहुल 33 विद्यार्थियों की एक कक्षा में ऊपर से 12वें स्थान पर है। श्रेणी के अनुसार श्यामसे नीचे 5 विद्यार्थी हैं। राहुल और श्याम के बीच कितने विद्यार्थी हैं?

- (a) 14 (b) 15  
(c) 12 (d) 18

20. P, Q से लंबा है। R, S से लंबा है परंतु T से छोटा है। Q, S से छोटा है तथा S, P से लंबा है। सबसे लंबा कौन है?

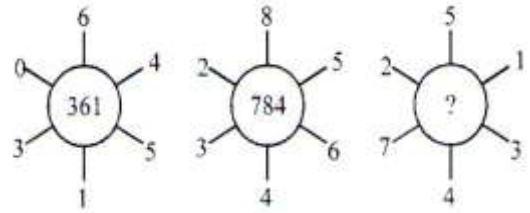
- (a) P (b) T  
(c) Q (d) R

21. दिए गए विकल्पों में से प्रश्नचिह्न (?) के स्थान पर आने वाली संख्या को चुनिए?

40	30	?
24	35	30
35	34	27

- (a) 42 (b) 35  
(c) 20 (d) 45

22. दिए गए विकल्पों में से प्रश्नचिह्न के स्थान पर आने वाली संख्या चुनिए -



- (a) 123 (b) 252  
(c) 484 (d) 346

23. यदि  $(4)^2 @ 10 * 7 = 167$  तथा  $(5)^2 * 8 = 258$  हो, तो  $(8)^2 @ 10 * 5 = ?$

- (a) 546 (b) 645  
(c) 465 (d) 646

24. बिंदु B बिंदु A से पूर्व दिशा में 5 किमी. दूरी पर है। बिंदु C बिंदु B से 2 किमी. उत्तर दिशा में है। बिंदु D बिंदु C से 3 किमी. पूर्व में है तथा बिंदु E बिंदु D से 4 किमी. उत्तर दिशा में है। बिंदु A और E के बीच न्यूनतम दूरी क्या होगी?

- (a) 14 किमी. (b) 10 किमी.  
(c) 12 किमी. (d) 13 किमी.

25. राम के स्कूल का फाटक उत्तर दिशा में है। वह फाटक से बाहर निकलकर 200 मी. आगे जाता है तथा अध्यापक को देखकर एकदम विपरीत दिशा में 300 मी. जाता है। इसके बाद वह दाएं मुड़ता है तथा 400 मी. की दूरी तय करता है। अब वह प्रारंभिक स्थान से किस दिशा में है?

- (a) दक्षिण-पश्चिम (b) दक्षिण-पूर्व  
(c) दक्षिण (d) उत्तर-पश्चिम





# चन्द्रा इंस्टीट्यूट

रामबाग सुन्दरम टॉवर के बगल (सिन्डिकेट बैंक के नीचे), इलाहाबाद

चन्द्रा इंस्टीट्यूट चन्द्रा इंस्टीट्यूट चन्द्रा इंस्टीट्यूट चन्द्रा इंस्टीट्यूट चन्द्रा इंस्टीट्यूट चन्द्रा इंस्टीट्यूट चन्द्रा इंस्टीट्यूट चन्द्रा इंस्टीट्यूट चन्द्रा इंस्टीट्यूट चन्द्रा इंस्टीट्यूट

चन्द्रा इंस्टीट्यूट चन्द्रा इंस्टीट्यूट चन्द्रा इंस्टीट्यूट चन्द्रा इंस्टीट्यूट चन्द्रा इंस्टीट्यूट चन्द्रा इंस्टीट्यूट चन्द्रा इंस्टीट्यूट चन्द्रा इंस्टीट्यूट चन्द्रा इंस्टीट्यूट चन्द्रा इंस्टीट्यूट

37. दिए गए कथनों को सत्य मानिए भले ही वे सामान्यतः ज्ञात तथ्यों से भिन्न प्रतीत होते हों और उनके आधार पर तय कीजिए कि कौन-सा/से निष्कर्ष कथनों का तार्किक रूप से अनुसरण करता/करते हैं?

- कथन**
- (i) कुल फल पत्ती हैं।
  - (ii) सभी पत्ती पेड़ है।
  - (iii) कोई पेड़ आम नहीं है।

- निष्कर्ष**
- (I) कुछ पेड़ फल हैं।
  - (II) कुछ आम फल हैं।
- (a) केवल निष्कर्ष (I) निकलता है।  
 (b) केवल निष्कर्ष (II) निकलता है।  
 (c) न तो निष्कर्ष (I) न ही निष्कर्ष (II) निकलता है।  
 (d) निष्कर्ष (I) और (II) दोनों निकलते हैं।

38. **कथन:** (i) कुछ लड़के बुद्धिमान हैं।  
(ii) राहुल एक लड़का है।

- निष्कर्ष:** (I) राहुल बुद्धिमान है।  
(II) राहुल बुद्धिमान नहीं है।

- (a) केवल निष्कर्ष (I) निकलता है।  
 (b) केवल निष्कर्ष (II) निकलता है।  
 (c) निष्कर्ष (I) य (II) निकलता है।  
 (d) कोई निष्कर्ष नहीं निकलता है।

39. नीचे दिए गए कथन और उसके बाद दिए गए तर्कों का अध्ययन करें-

**कथन:** क्या भारत में पॉलीथीन उत्पादन पर पूर्णतया प्रतिबंध लगा देना चाहिए।

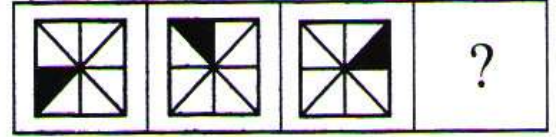
- तर्क:** (I) हा, पॉलीथीन से पर्यावरण को बहुत नुकसान पहुंचता है।  
(II) नहीं, पॉलीथीन का स्थान कोई अन्य उत्पाद नहीं ले सकता।

कथन के संदर्भ में कौन-सा/से तर्क प्रबल हैं/हैं?

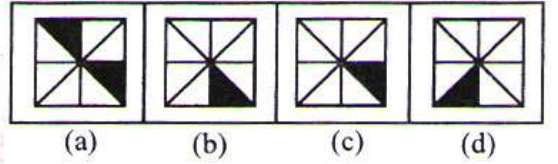
- (a) केवल तर्क (I) प्रबल है।  
 (b) केवल तर्क (II) प्रबल है।  
 (c) तर्क (I) और (II) दोनों प्रबल हैं।  
 (d) न तो तर्क (I) न ही तर्क (II) प्रबल है।

40. निम्न अनुक्रम में आगे आने वाली आकृति होगी-

**प्रश्न आकृतियां**



**उत्तर आकृतियां**

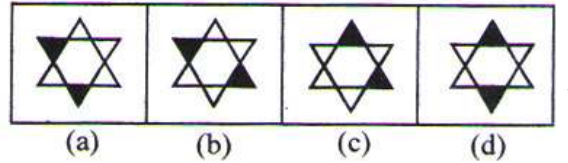


41. दी गई आकृति का दर्पण प्रतिबिंब होगा, यदि दर्पण A, B पर रखा हो-

**प्रश्न आकृति**



**उत्तर आकृतियां**



42. Z6N114YMW का जल प्रतिबिंब होगा?

- (a) 2eN114YWM (b) Z0NN4YMW  
(c) 2eN114YWM (d) 2eN114YWM

43. नीचे दी गई आकृति में त्रिभुजों की कुल संख्या कितनी है?



- (a) 10 (b) 17  
(c) 15 (d) 14





# चन्द्रा इंस्टीट्यूट

रामबाग सुन्दरम टॉवर के बगल (सिन्डिकेट बैंक के नीचे), इलाहाबाद

चन्द्रा इंस्टीट्यूट चन्द्रा इंस्टीट्यूट चन्द्रा इंस्टीट्यूट चन्द्रा इंस्टीट्यूट चन्द्रा इंस्टीट्यूट चन्द्रा इंस्टीट्यूट चन्द्रा इंस्टीट्यूट चन्द्रा इंस्टीट्यूट चन्द्रा इंस्टीट्यूट चन्द्रा इंस्टीट्यूट

चन्द्रा इंस्टीट्यूट चन्द्रा इंस्टीट्यूट चन्द्रा इंस्टीट्यूट चन्द्रा इंस्टीट्यूट चन्द्रा इंस्टीट्यूट चन्द्रा इंस्टीट्यूट चन्द्रा इंस्टीट्यूट चन्द्रा इंस्टीट्यूट चन्द्रा इंस्टीट्यूट चन्द्रा इंस्टीट्यूट

59. भारत के प्रथम राष्ट्रपति कौन थे—  
(a) जाकिर हुसैन  
(b) डॉ० एस० राधाकृष्णन  
(c) श्री० वी० वी० गिरी  
(d) श्री बी० डी० जत्ती
60. भारत के राष्ट्रपति अपना त्यागपत्र किसको सम्बोधित करते हैं—  
(a) भारत के मुख्य न्यायाधीश  
(b) प्रधानमंत्री  
(c) उपराष्ट्रपति  
(d) लोकसभा अध्यक्ष
61. हैजा रोग से शरीर का कौन-सा अंग प्रभावित होता है—  
(a) त्वचा (b) आँत  
(c) फेफड़े (d) हृदय
62. गोबर गैस में मुख्यतः कौन-सी गैस होती है—  
(a) मिथेन (b) क्लोरीन  
(c) हीलियम (d) नाइट्रोजन
63. कैलकुलेटर किस प्रकार की कम्प्यूटर कार्य पद्धति पर कार्य करता है—  
(a) हाइब्रिड कम्प्यूटर  
(b) एनॉलाग कम्प्यूटर  
(c) डिजिटल कम्प्यूटर  
(d) इनमें से कोई नहीं
64. कितने माप से अधिक ध्वनि को 'शोर' का नाम दिया जाता है—  
(a) 80 डेसीबल (b) 100 डेसीबल  
(c) 120 डेसीबल (d) 140 डेसीबल
65. "अन्तर्राष्ट्रीय महिला दिवस" कब मनाया जाता है—  
(a) 8 मई (b) 8 अप्रैल  
(c) 8 मार्च (d) 8 जून
66. भारत में किसी राज्य की प्रथम महिला मुख्यमंत्री कौन बनी—  
(a) श्रीमति फातिमा बीबी  
(b) श्रीमति विजय लक्ष्मी पंडित  
(c) श्रीमति सुचेता कृपलानी  
(d) श्रीमति दुर्गा बनर्जी
67. उत्तर प्रदेश राज्य का भारत में क्षेत्रफल की दृष्टि से कौन-सा स्थान है—  
(a) पहला (b) दूसरा  
(c) तीसरा (d) चौथा
68. भारत की सड़क प्रणाली का विश्व में कौन-सा स्थान है—  
(a) दूसरा (b) चौथा  
(c) पांचवा (d) छठा
69. निम्न में से किसने कभी भी भारत के उप-प्रधानमंत्री के रूप में कार्यभार नहीं संभाला—  
(a) मोरारजी देसाई  
(b) देवी लाल  
(c) वी० पी० सिंह  
(d) लाल कृष्ण आड़वाणी
70. किसी विधानसभा में भारत के संविधान के अनुसार कम से कम और अधिक से अधिक कितने समय सदस्य हो सकते हैं—  
(a) 30 एवं 272 (b) 80 एवं 50  
(c) 54 एवं 333 (d) 60 एवं 500
71. निम्न में से कम्प्यूटर नेटवर्क में क्या अद्वितीय नहीं होता है—  
(a) आई० पी० पता  
(b) कम्प्यूटर का नाम  
(c) वर्कगुप का नाम  
(d) यह सभी
72. माइक्रोसाफ्ट एक्सल की कम्प्यूटर फाइल को किस प्रकार नाम दिया जाता है—  
(a).doc (b).xls  
(c).pmt (d).xml
73. कम्प्यूटर में निम्न में से कौन-सी इनपुट डिवाइस नहीं है—  
(a) माउस (b) प्रिंटर  
(c) की-बोर्ड (d) स्कीनर









# चन्द्रा इंस्टीट्यूट

रामबाग सुन्दरम टॉवर के बगल (सिन्डिकेट बैंक के नीचे), इलाहाबाद

चन्द्रा इंस्टीट्यूट चन्द्रा इंस्टीट्यूट चन्द्रा इंस्टीट्यूट चन्द्रा इंस्टीट्यूट चन्द्रा इंस्टीट्यूट चन्द्रा इंस्टीट्यूट चन्द्रा इंस्टीट्यूट चन्द्रा इंस्टीट्यूट चन्द्रा इंस्टीट्यूट चन्द्रा इंस्टीट्यूट

**This is demo  
sheet 100  
question**

**for Full sheet  
buy now and  
get 1000  
question set  
with answers**

आंसर शीट हेतु इन्सटाल  
करें टेलीग्राम प्लेस्टोर से  
एवं सर्च करें चन्द्रा  
इन्स्टीट्यूट इलाहाबा और  
तुरंत ज्वाइन करें।



चन्द्रा इंस्टीट्यूट चन्द्रा इंस्टीट्यूट चन्द्रा इंस्टीट्यूट चन्द्रा इंस्टीट्यूट चन्द्रा इंस्टीट्यूट चन्द्रा इंस्टीट्यूट चन्द्रा इंस्टीट्यूट चन्द्रा इंस्टीट्यूट चन्द्रा इंस्टीट्यूट चन्द्रा इंस्टीट्यूट